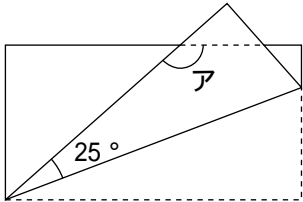


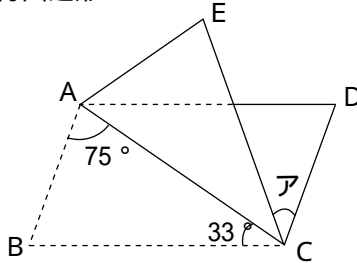


1 次の図は、いろいろな図形を折り返したものです。アの角の大きさを求めなさい。

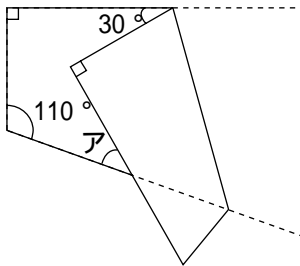
(1) 長方形



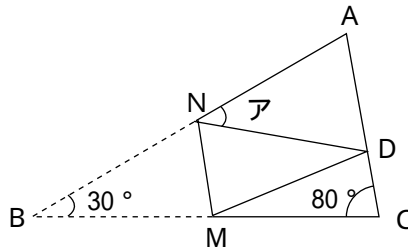
(2) 平行四辺形



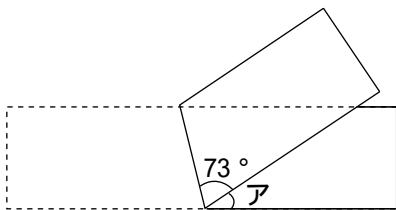
(3) 台形



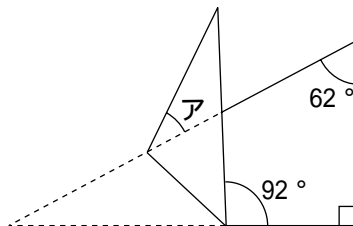
(4) $BM = CM$



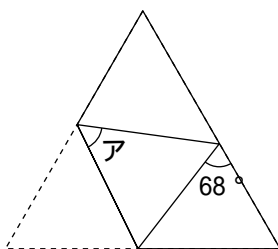
(5) 長方形



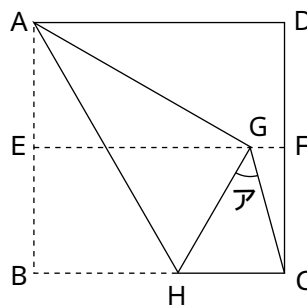
(6) 直角三角形



(7) 正三角形



(8) 点EとFは正方形の辺の真ん中の点

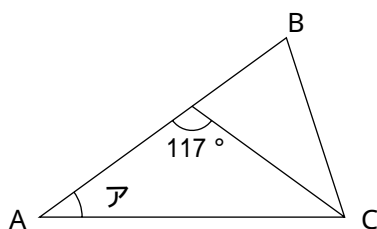


1

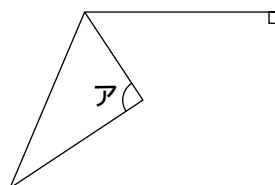
(1)	
(2)	
(3)	
(4)	
(5)	
(6)	
(7)	
(8)	

2 次の図で、同じ印の角の大きさは等しいです。アの角の大きさを求めなさい。

(1) 二等辺三角形ABC



(2) 台形



2

(1)	
(2)	