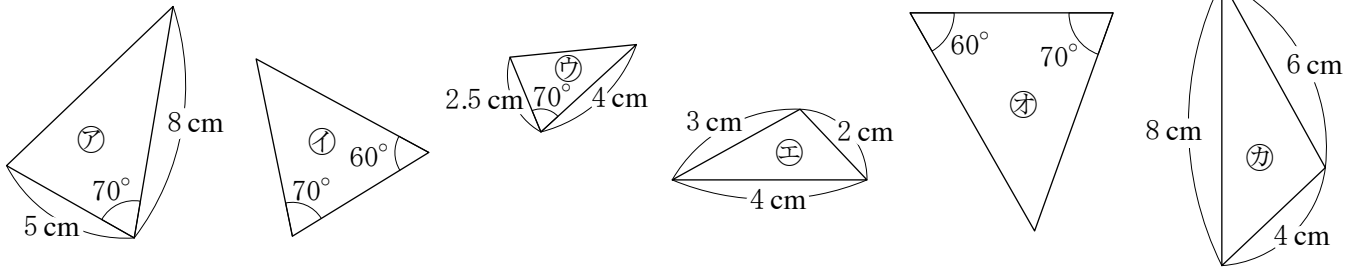




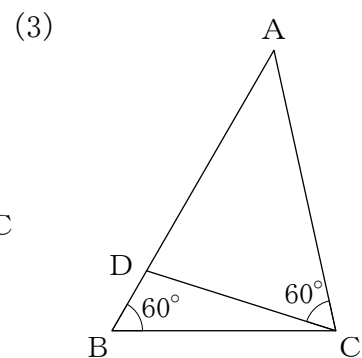
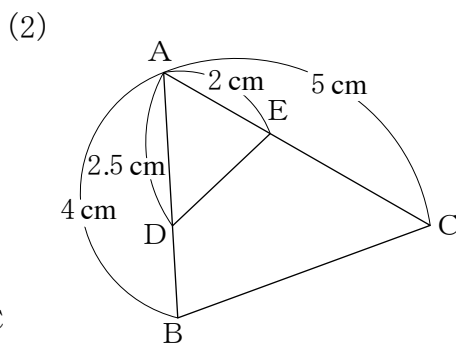
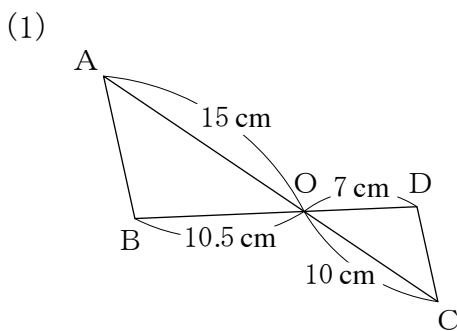
1 次の図の㉗～㉙から、相似な三角形の組をすべて見つけなさい。また、そのときに使った相似条件を答えなさい。



1

三角形の組	と	相似条件	
三角形の組	と	相似条件	
三角形の組	と	相似条件	

2 次の図で、相似な三角形を記号のを使って表しなさい。また、そのときに使った相似条件を答えなさい。



2

(1)		相似条件	
(2)		相似条件	
(3)		相似条件	