

学 年	ク ラ ス	氏 名	点
年			

_____点

①

次の計算をしなさい。

(1) $\frac{6}{7} \times \frac{3}{5}$ () (2) $\frac{2}{15} \times 6$ ()

(3) $\frac{4}{9} \times \frac{7}{5}$ () (4) $\frac{16}{25} \times \frac{5}{4}$ ()

(5) $\frac{7}{40} \times \frac{5}{28}$ () (6) $\frac{9}{35} \times \frac{7}{36} \times \frac{4}{3}$ ()

②

_____点

(1) 次の円の面積を求めなさい。

① 半径6cmの円

式()

答え()

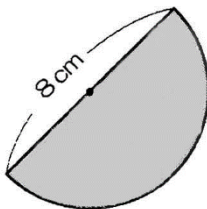
② 直径20cmの円

式()

答え()

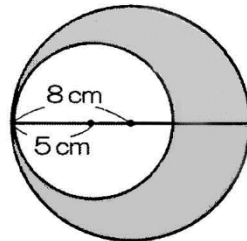
(2) 次の図形の色のついた部分の面積を求めなさい。

①



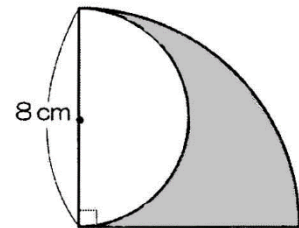
答え()

②



答え()

③



答え()